






























15. ??? ???? ???? ???? ???? ?

1. 在 100 以内，找出 3 的倍数，并填入下面的方格中。
 2. 在 100 以内，找出 5 的倍数，并填入下面的方格中。
 3. 在 100 以内，找出 10 的倍数，并填入下面的方格中。
 4. 在 100 以内，找出 15 的倍数，并填入下面的方格中。
 5. 在 100 以内，找出 20 的倍数，并填入下面的方格中。
 6. 在 100 以内，找出 25 的倍数，并填入下面的方格中。
 7. 在 100 以内，找出 30 的倍数，并填入下面的方格中。
 8. 在 100 以内，找出 35 的倍数，并填入下面的方格中。
 9. 在 100 以内，找出 40 的倍数，并填入下面的方格中。
 10. 在 100 以内，找出 45 的倍数，并填入下面的方格中。
 11. 在 100 以内，找出 50 的倍数，并填入下面的方格中。
 12. 在 100 以内，找出 55 的倍数，并填入下面的方格中。
 13. 在 100 以内，找出 60 的倍数，并填入下面的方格中。
 14. 在 100 以内，找出 65 的倍数，并填入下面的方格中。
 15. 在 100 以内，找出 70 的倍数，并填入下面的方格中。
 16. 在 100 以内，找出 75 的倍数，并填入下面的方格中。
 17. 在 100 以内，找出 80 的倍数，并填入下面的方格中。
 18. 在 100 以内，找出 85 的倍数，并填入下面的方格中。
 19. 在 100 以内，找出 90 的倍数，并填入下面的方格中。
 20. 在 100 以内，找出 95 的倍数，并填入下面的方格中。

??? ????(????)

$\square\square\square\square\square\square\square$ $\square\square$ $\square\square$ \square $6\square30\square\square\square$ \square $\square\square\square\square$ $\square\square\square\square$ $12\square\square\square$, $6\square30\square\square\square$ \square $\square\square\square\square$ $\square\square$ \square $6\square30\square\square\square$.



























??? ????(????)

[illegible]

□□□□ □□ □□□□ □□ □□ □□ □□ □□□□ □□ □□ □ □□□ □□□□ □□□□
 □□ □ □□ □□□□ □□□□ □□□□ . □ □□□ □ □□□□□ □□□□ □□□□ □
 □□□□ □□ □□□□ □□□□ 6□ 30□ (□ □□□ □□ 6□ □)□ □□□ .

????? ??

1. 2019 年 12 月 31 日，A 公司 2019 年度财务报表已经审计，审计师出具了无保留意见审计报告。2020 年 1 月 1 日，A 公司 2019 年度财务报表已经审计，审计师出具了无保留意见审计报告。

1111 1111 1 1111 1111 BBB+ 111 1 111 111 111 111 111 111
 . 111 1111 11 1111 1111 .
 11 , 11 1111 11 1111 1111 111111 11 11 111 11111 1111 111 111
 1111 .