













15. ??? ???? ???? ?

1. 在 100 以内，找出 3 的倍数，并填入下面的方格中。  
 2. 在 100 以内，找出 5 的倍数，并填入下面的方格中。  
 3. 在 100 以内，找出 10 的倍数，并填入下面的方格中。  
 4. 在 100 以内，找出 15 的倍数，并填入下面的方格中。  
 5. 在 100 以内，找出 20 的倍数，并填入下面的方格中。  
 6. 在 100 以内，找出 25 的倍数，并填入下面的方格中。  
 7. 在 100 以内，找出 30 的倍数，并填入下面的方格中。  
 8. 在 100 以内，找出 35 的倍数，并填入下面的方格中。  
 9. 在 100 以内，找出 40 的倍数，并填入下面的方格中。  
 10. 在 100 以内，找出 45 的倍数，并填入下面的方格中。  
 11. 在 100 以内，找出 50 的倍数，并填入下面的方格中。  
 12. 在 100 以内，找出 55 的倍数，并填入下面的方格中。  
 13. 在 100 以内，找出 60 的倍数，并填入下面的方格中。  
 14. 在 100 以内，找出 65 的倍数，并填入下面的方格中。  
 15. 在 100 以内，找出 70 的倍数，并填入下面的方格中。  
 16. 在 100 以内，找出 75 的倍数，并填入下面的方格中。  
 17. 在 100 以内，找出 80 的倍数，并填入下面的方格中。  
 18. 在 100 以内，找出 85 的倍数，并填入下面的方格中。  
 19. 在 100 以内，找出 90 的倍数，并填入下面的方格中。  
 20. 在 100 以内，找出 95 的倍数，并填入下面的方格中。

??? ????(????)

$\square\square\square\square\square\square\square$        $\square\square$      $\square\square$      $\square$      $6\square30\square\square\square$      $\square$      $\square\square\square\square$      $\square\square\square\square$      $12\square\square\square$  ,  $6\square30\square\square\square$      $\square$      $\square\square\square\square$      $\square$      $\square\square$      $\square$      $6\square30\square\square$  .























??? ????(????)

[illegible]

□□□□ □□ □□□□ □□ □□ □□ □□ □□□□ □□ □□ □ □□□ □□□□ □□□□  
 □□ □ □□ □□□□ □□□□ □□□□ . □ □□□ □ □□□□□ □□□□ □□□□ □  
 □□□□ □□ □□□□ □□□ □□ 6□ 30□ (□ □□□ □□ 6□ □ )□ □□ .

????? ??

1. 2019 年 12 月 31 日，A 公司 2019 年度财务报表已经注册会计师审计并出具了无保留意见审计报告。2020 年 1 月 1 日，A 公司 2019 年度财务报表已经注册会计师审计并出具了无保留意见审计报告。2020 年 1 月 1 日，A 公司 2019 年度财务报表已经注册会计师审计并出具了无保留意见审计报告。

1111 1111 1 1111 1111 BBB+ 111 1 111 111 111 111 111 111  
 . 111 1111 11 1111 1111 .  
 11 , 11 1111 11 1111 1111 111111 11 11 111 11111 1111 111 111  
 1111 .